



Демонстрационный вариант



Оценочные материалы по географии
для проведения промежуточной аттестации
учащихся 5 класса

1. Какая наука изучает географические объекты, процессы и явления в географической оболочке нашей планеты? 1) геология 2) география 3) биология
2. Что означает греческое слово «ГЕО»? 1) Луна 2) Природа 3) Земля 4) Солнце
3. Какую форму имеет Земля?
1) идеального шара 2) сплюснутую у экватора 3) сплюснутую у полюсов
4. Какими становятся все параллели при удалении от экватора?
1) короче 3) длиннее
2) их длина не изменяется 4) сначала их длина уменьшается, а затем увеличивается
5. Как называется самая тонкая часть Земли?
1) литосфера 2) мантия 3) ядро 4) земная кора
6. Из чего состоит вулкан?
1) кратера 2) из кратера и мантии 3) из кратера, жерла и конуса 4) Из магмы и лавы
7. Как переводится слово «география» с греческого?
1) Описание Земли 2) Природоведение 3) Земля 4) Вселенная
8. Если встать лицом к северу, то в какой стороне от вас будет находиться запад?
1) справа 2) слева 3) сзади 4) впереди
9. В каком примере правильно указана последовательность образования продуктов извержения вулкана?
1) Лава-----очаг магмы -----магма-----пепел
2) Очаг магмы -----лава-----пепел-----магма
3) Очаг магмы -----магма-----пепел-----лава
4) Пепел-----очаг магмы-----лава-----магма
10. Назовите равнину, расположенную между Уральскими горами на западе и Среднесибирском плоскогорьем на востоке.
11. Что из перечисленного не является океаном?
1) Баренцево 2) Северный - Ледовитый 3) Атлантический 4) Индийский
5) Тихий
12. В какой океан впадают реки: Енисей, Лена, Обь?
1) Тихому 2) Атлантическому 3) Индийскому 4) Северному - Ледовитому
13. На территории какого материка расположена наивысшая точка Земли?
1) Африка; 2) Южная Америка; 3) Северная Америка; 4) Евразия.
14. К объектам живой природы относится: 1) кристалл; 2) сосулька; 3) гриб; 4) звезда.
15. К объектам неживой природы относится: 1) краб; 2) жук; 3) ель; 4) луна.


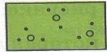
16.



Какой из указанных условных знаков обозначает луг?

1)  3) 



2)  4) 



Какой из указанных условных знаков обозначает заросли кустарника?

1)  3) 

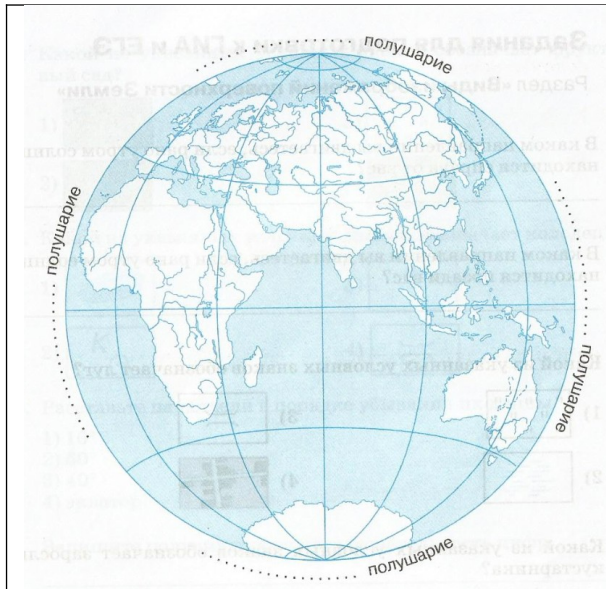
2)  4) 

Какой из указанных условных знаков обозначает болото?

1)  3) 

2)  4) 

17.



Найдите соответствие:

А-

Б-

В-

Г-

Д-

1 – северный полюс

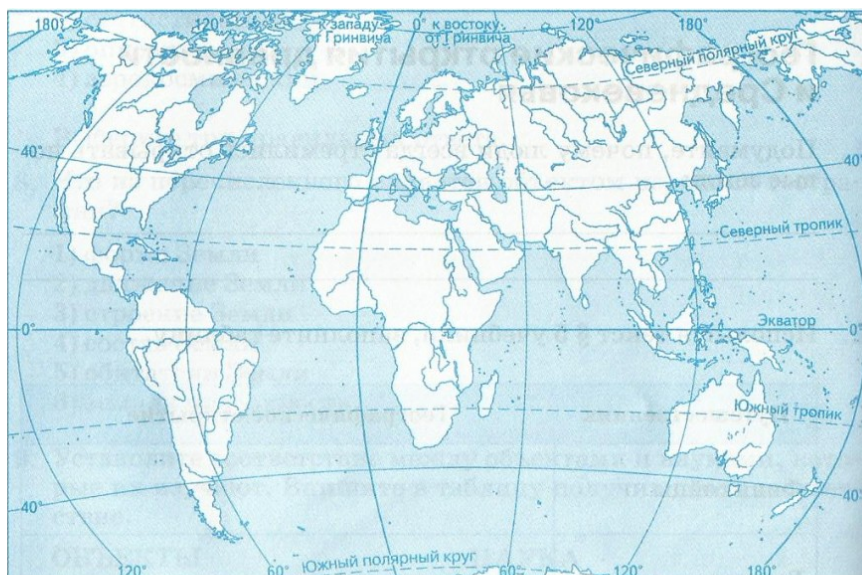
2 – экватор

3 – южный полюс

4 – параллель

5 – меридиан

18. Какими цифрами обозначены: Африка, Евразия, Северная Америка, Австралия, Южная Америка, Антарктида, Атлантический океан, Индийский океан, Тихий океан, Северный Ледовитый океан.



19. В каком направлении надо двигаться из Африки, чтобы достичь

- 1) Австралии; 2) Южной Америки; 3) острова Гренландии.

Ответы

1-2

2-3

3-3

4-1

5-4

6-3

7-1

8-2

9-3

10-Западно-Сибирская

11-1

12-Северный Ледовитый океан

13-4

14-3

15-1

16. 1-1 2-3 3-2